

# ΧΗΜΕΙΑ - ΒΙΟΧΗΜΕΙΑ

## ΤΕΧΝΟΛΟΓΙΚΗΣ ΚΑΤΕΥΘΥΝΣΗΣ (ΚΥΚΛΟΣ ΤΕΧΝΟΛΟΓΙΑΣ ΚΑΙ ΠΑΡΑΓΩΓΗΣ)

30 ΜΑΪΟΥ 2012

ΕΚΦΩΝΗΣΕΙΣ

### ΘΕΜΑ Α

Για τις ερωτήσεις Α1 και Α2 να γράψετε στο τετράδιό σας τον αριθμό της ερώτησης και δίπλα το γράμμα που αντιστοιχεί στη σωστή απάντηση.

**A1.** Κατά την ογκομέτρηση ισχυρού οξέος με ισχυρή βάση, το pH στο ισοδύναμο σημείο είναι:

- α. 3
- β. 5
- γ. 7
- δ. 9

Μονάδες 3

**A2.** Ποια από τις επόμενες χημικές ουσίες, όταν διαλυθεί σε νερό, δεν μεταβάλλει το pH του;

- α.  $\text{NH}_4\text{NO}_3$
- β.  $\text{CH}_3\text{COONa}$
- γ.  $\text{CaCl}_2$
- δ.  $\text{KF}$

Μονάδες 3

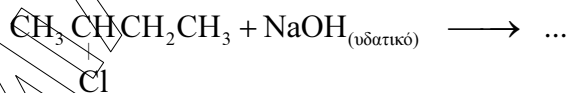
**A3.** Να χαρακτηρίσετε καθεμιά από τις προτάσεις που ακολουθούν, γράφοντας στο τετράδιό σας **σωστό (Σ)** ή **λάθος (Λ)**, δίπλα στο γράμμα που αντιστοιχεί στην κάθε πρόταση (μονάδες 2).

- α. Κατά την προσθήκη στερεού  $\text{NaF}$  σε υδατικό διάλυμα  $\text{HF}$  η  $K_a$  του  $\text{HF}$  αυξάνεται.
- β. Κατά την προσθήκη  $\text{H}_2\text{O}$ , παρουσία  $\text{H}_2\text{SO}_4 - \text{HgSO}_4$ , σε αιθίνιο προκύπτει ως προϊόν η αιθανάλη.

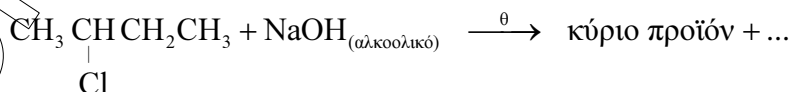
Να αιτιολογήσετε όλες τις απαντήσεις σας (μονάδες 4).

Μονάδες 6

**A4.** Να συμπληρωθούν οι επόμενες χημικές εξισώσεις:



(μονάδες 2)



(μονάδες 3)

Μονάδες 5

- A5.** Προπένιο αντιδρά με HCl και δίνει ένωση **A** (κύριο προϊόν). Η ένωση **A** αντιδρά με Mg, σε απόλυτο αιθέρα, και δίνει ένωση **B**, η οποία στη συνέχεια αντιδρά με μεθανάλη και δίνει ένωση **Γ**. Η ένωση **Γ** με υδρόλυση δίνει οργανική ένωση **Δ**. Να γραφούν οι χημικές εξισώσεις των παραπάνω αντιδράσεων (οι οργανικές ενώσεις να γραφούν με συντακτικούς τύπους).

**Μονάδες 8**

## ΘΕΜΑ Β

Διαθέτουμε τα παρακάτω υδατικά διαλύματα:

Διάλυμα Δ<sub>1</sub>: NaOH συγκέντρωσης 0,01 M

Διάλυμα Δ<sub>2</sub>: CH<sub>3</sub>COOH συγκέντρωσης 0,1 M

Διάλυμα Δ<sub>3</sub>: CH<sub>3</sub>COONa συγκέντρωσης 0,1 M

- B1.** Αραιώνουμε με νερό 10 mL διαλύματος Δ<sub>1</sub> μέχρις όγκου 100 mL και 10 mL διαλύματος Δ<sub>2</sub> μέχρις όγκου 100 mL. Να υπολογιστεί το pH καθενός από τα δύο αραιωμένα διαλύματα.

**Μονάδες 8**

- B2.** Με ποια αναλογία όγκων πρέπει να αναμειξούμε τα διαλύματα Δ<sub>1</sub> και Δ<sub>2</sub>, για να προκύψει διάλυμα με pH = 6;

**Μονάδες 8**

- B3.** Πόσος όγκος (L) H<sub>2</sub>O πρέπει να προστεθεί σε 500 mL του Δ<sub>3</sub>, για να μεταβληθεί το pH του κατά μία μονάδα;

**Μονάδες 9**

Δίνεται ότι:

- Όλα τα διαλύματα βρίσκονται σε θερμοκρασία 25°C
- $K_w = 10^{-14}$ ,  $K_a(\text{CH}_3\text{COOH}) = 10^{-5}$
- Τα δεδομένα του προβλήματος επιτρέπουν να γίνουν οι γνωστές προσεγγίσεις.

## ΘΕΜΑ Γ

**Γ1.** Να μεταφέρετε στο τετράδιό σας τις παρακάτω προτάσεις συμπληρωμένες με τους σωστούς όρους:

Από τις πρωτεΐνες που έχουν ..... ρόλο, η ..... είναι υπεύθυνη για τη μεταφορά  $O_2$  στο αίμα, ενώ η ..... είναι υπεύθυνη για την πρόσληψη  $O_2$  από τους μυς.

**Μονάδες 6**

**Γ2.** Να γράψετε στο τετράδιό σας το γράμμα που αντιστοιχεί στο **σωστό** συμπλήρωμα της παρακάτω πρότασης.

Το t-RNA

- α.** αποτελεί δομικό συστατικό των ριβοσωμάτων.
- β.** μεταφέρει κατά τη διάρκεια της πρωτεϊνοσύνθεσης, αμινοξέα από το κυτταρόπλασμα στα ριβοσώματα.
- γ.** αποτελείται από αμινοξέα.
- δ.** μεταφέρει γενετικές πληροφορίες από το DNA στα ριβοσώματα.

**Μονάδες 3**

**Γ3.** Να χαρακτηρίσετε τις προτάσεις που ακολουθούν, γράφοντας στο τετράδιό σας δίπλα στο γράμμα που αντιστοιχεί σε κάθε πρόταση, τη λέξη **Σωστό**, αν η πρόταση είναι σωστή, ή **Λάθος**, αν η πρόταση είναι λανθασμένη.

- α.** Τα αμινοξέα που μπορούν να συντεθούν από τον οργανισμό ονομάζονται απαραίτητα.
- β.** Η πολυνουκλεοτιδική αλυσίδα συγκροτείται με τη βοήθεια δεσμών υδρογόνου.
- γ.** Ένα πενταπεπτίδιο είναι μείγμα πέντε πεπτιδίων.
- δ.** Όταν ένα αμινοξύ με  $pI=5,6$  διαλυθεί σε διάλυμα HCl 0,1M, τότε το αμινοξύ εμφανίζεται φορτισμένο θετικά.

**Μονάδες 8**

**Γ4.** Να γράψετε στο τετράδιό σας τα γράμματα της **Στήλης I** και, δίπλα σε κάθε γράμμα, έναν από τους αριθμούς της **Στήλης II**, ώστε να προκύπτει η σωστή αντιστοίχιση. (Ένα στοιχείο της **Στήλης I** περισσεύει).

Στήλη I	Στήλη II
<b>α.</b> Φωσφοδιεστερικοί δεσμοί	<b>1.</b> Ομοιοπολικοί δεσμοί μεταξύ ατόμων θείου δύο κυστεϊνών
<b>β.</b> Ηεπτιδικοί δεσμοί	<b>2.</b> Ενώνουν τα διαδοχικά νουκλεοτίδια μιας πολυνουκλεοτιδικής αλυσίδας
<b>γ.</b> Γλυκοζιτικοί δεσμοί	<b>3.</b> Συγκρατούν μεταξύ τους τις συμπληρωματικές βάσεις του DNA
<b>δ.</b> Δισουλφιδικοί δεσμοί	<b>4.</b> Ανιχνεύονται με την αντίδραση της διουρίας.
<b>ε.</b> Δεσμοί υδρογόνου	

**Μονάδες 8**

## ΘΕΜΑ Δ

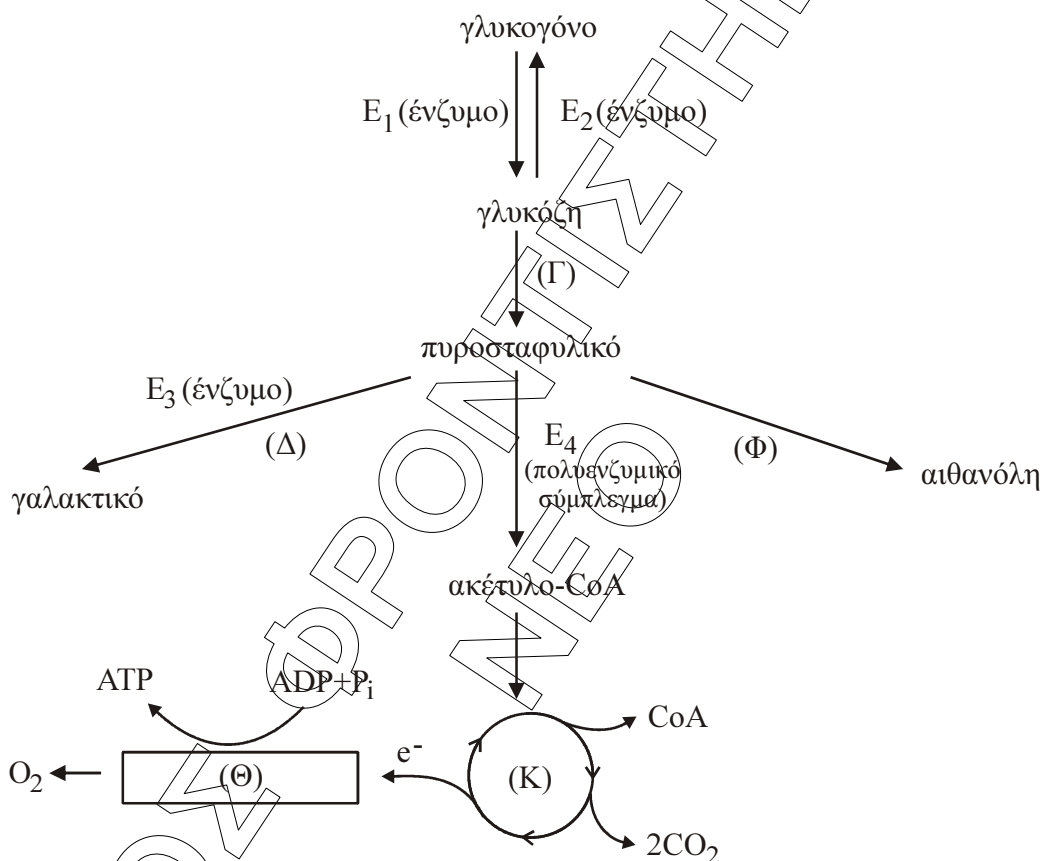
**Δ1.** Σε ποιες περιπτώσεις ενεργοποιείται η σύνθεση γλυκόζης από μη υδατανθρακικές πηγές στον ανθρώπινο οργανισμό; (μονάδες 5)

Πώς ονομάζεται αυτή η μεταβολική πορεία (μονάδα 1);

Σε ποια όργανα του ανθρώπινου οργανισμού πραγματοποιείται η πορεία αυτή και σε τι βοηθάει τις μεταβολικές του ανάγκες; (μονάδες 4)

**Μονάδες 10**

Με βάση το παρακάτω σχήμα να απαντήσετε στα Δ2, Δ3, Δ4.



**Δ2.** Να ονομαστούν οι μεταβολικές πορείες  $(\Gamma)$ ,  $(\Delta)$ ,  $(K)$ ,  $(\Theta)$ ,  $(\Phi)$ .

**Μονάδες 5**

**Δ3.** Να ονομαστούν τα ένζυμα  $E_1$ ,  $E_2$ ,  $E_3$  καθώς και το πολυενζυμικό σύμπλεγμα  $E_4$ .

**Μονάδες 4**

**Δ4.** Σε ποια περιοχή του κυττάρου πραγματοποιείται η μεταβολική πορεία  $(\Gamma)$  και σε ποια η  $(K)$ ;

**Μονάδες 6**